

SECRETARIA MUNICIPAL DE EDUCAÇÃO
ATIVIDADES COMPLEMENTARES DE ESTUDO – COVID 19

ROTEIRO DE RECUPERAÇÃO PARALELA DOS CONTEÚDOS DO 2º TRIMESTRE

ESCOLA MUNICIPAL GERALDA CHAVES TIRADENTES

PROFESSOR: MARIA FERNANDA

COMPONENTES CURRICULARES: LÍNGUA PORTUGUESA, MATEMÁTICA E PSICOMOTRICIDADE


TURMA: SALA DE RECURSOS – 3º e 4º ANO

PERÍODO DE REALIZAÇÃO: 23/08 A 26/08

ALUNO (A): _____

O QUE VOCÊ VAI ESTUDAR:	<ul style="list-style-type: none">- ORTOGRAFIA/COMPREENDENDO O TEXTO/CAÇA – PALAVRAS/TRANSFORMANDO- DECOMPOSIÇÃO/MULTIPLICAÇÃO/SEQUÊNCIA NUMÉRICA/DESCOBRINDO- PONTILHADO- LABIRINTO
PARA QUE VAMOS ESTUDAR ESSES CONTEÚDOS?	<ul style="list-style-type: none">- IDENTIFICAR O USO CORRETO DAS LETRAS COM AS PALAVRAS SUGERIDAS- RECONHECER QUAIS SÃO AS ORDENS NUMÉRICAS- <i>COMPREENDER A ATENÇÃO E A HABILIDADE MANUAL</i>- DESENVOLVER A COORDENAÇÃO MOTORA E VISUAL.
ATIVIDADE PARA REALIZAR ESSA ATIVIDADE VOCÊ PRECISARÁ DE ALGUNS MATERIAIS:	AS ATIVIDADES SERÃO REALIZADAS COM MATERIAL IMPRESSO, PROPOSTOS NOS ROTEIROS ENVIADOS PARA OS ALUNOS.

Ortografia C e SC:



Complete as palavras corretamente marcando com um X nas letras.

PALAVRA	C	SC	ESCREVA A PALAVRA
pi.....ina			
.....inema			
cre.....er			
a.....ima			
na.....er			
te.....ido			
e.....ada			
.....imento			
e.....rever			
edifí.....io			
.....erto			
na.....ente			
e.....uro			
pe.....oço			
de....er			
....ebola			



COMPREENDENDO O TEXTO

Leia o texto com atenção e depois responda as questões a seguir:

O jabuti e a onça

Certa vez, o jabuti pegou a sua gaita e tocou assim:

___ O osso da onça é a minha gaita ih,ih,ih,...

A onça, que passava por perto, ficou irritada e correu para pegá-lo. Mas o jabuti meteu-se num buraco adentro e a onça só conseguiu agarrar-lhe a perna.

O jabuti deu uma risada e disse:

___ Pensa que agarrou minha perna? Agarrou uma raiz de pau!

A onça largou então a perna do jabuti, que deu uma segunda risada:

___ Ora, dona onça, de fato você agora soltou a minha perna.

A grande tola, ao saber disto, ficou furiosa e durante muito tempo esperou o jabuti sair. Mas o jabuti, que era muito paciente, foi ficando, foi ficando, até a onça desistir e ir embora.

MORAL: A INTELIGÊNCIA VENCE A FORÇA

Silvio Romero

COMPREENDENDO O TEXTO:

a) Onde se escondeu o jabuti, para fugir da onça?

b) Qual o animal mais esperto da história? Porque você acha?

c) Por quanto tempo a onça esperou que o jabuti saísse do buraco?

d) Quem são os personagens da história?

e) Qual a moral da fábula?

TRANSFORMANDO

Transforme os substantivos destacados em adjetivos, conforme o modelo

Quem tem carinho: *carinhoso*

- 1- Quem tem bondade: _____
- 2- Quem tem vaidade: _____
- 3- Quem tem amor: _____
- 4- Quem tem gula: _____
- 5- Quem tem fama: _____
- 6- Quem tem perigo: _____
- 7- Quem tem medo: _____
- 8- Quem tem preguiça: _____
- 9- Quem tem orgulho: _____
- 10- Quem tem charme: _____
- 11- Quem tem habilidade: _____
- 12- Quem tem coragem: _____
- 13- Quem tem teimosia: _____
- 14- Quem tem capricho: _____



CAÇA - PALAVRAS

PROCURE NO CAÇA-PALAVRA OS PERSONAGENS DO FOLCLORE:

SACI LOBISOMEM
SEREIA CURUPIRA

MULA SEM CABEÇA NEGRINHO

VITÓRIA RÉGIA BOTO BUMBA MEU BOI

BOITATÁ CORPO SECO PISADEIRA



M	U	L	A	X	S	E	M	Y	C	A	B	E	Ç	A	W	B
P	B	V	R	L	O	B	I	S	O	M	E	M	X	T	R	D
V	G	S	A	C	I	T	R	U	C	V	F	H	M	N	R	S
A	C	B	V	S	R	Q	W	X	C	U	R	U	P	I	R	A
N	E	G	R	I	N	H	O	G	H	K	L	T	D	U	M	O
X	B	U	M	B	A	G	M	E	U	F	B	O	I	T	Q	Z
F	D	V	S	T	Z	S	E	R	E	I	A	X	M	N	T	R
G	M	V	I	T	Ó	R	I	A	Q	R	É	G	I	A	X	S
H	Q	R	P	S	T	D	G	P	W	B	O	T	O	F	R	M
C	O	R	P	O	X	S	E	C	O	Y	W	Z	Q	R	B	C
N	P	Q	G	Y	P	I	S	A	D	E	I	R	A	W	E	I
B	O	I	T	A	T	A	X	Y	K	G	R	V	Y	U	A	E

Escrever por extenso e Decomposição:

128	→	Cento e vinte e oito	1	2	8
87	→	_____			
137	→	_____			
37	→	_____			
8	→	_____			
235	→	_____			
179	→	_____			
153	→	_____			
104	→	_____			
26	→	_____			
92	→	_____			
204	→	_____			
159	→	_____			
163	→	_____			
258	→	_____			
2	→	_____			
93	→	_____			
138	→	_____			
157	→	_____			
85	→	_____			
0	→	_____			
277	→	_____			



MULTIPLICAÇÃO



Neste momento temos algumas multiplicações, iremos realizar um pouco da multiplicação nesta atividade.

1. Faça conforme o exemplo.

Exemplo: $3 \times 2 = 2 + 2 + 2 = 6$

a) 3×5 b) 2×8 c) 3×3
 d) 3×6 e) 2×4 f) 3×2

2. Represente as multiplicações no caderno, por meio de desenhos como no exemplo.

$2 \times 4 = 8$  

3×6 4×2 5×6 2×9 3×4 4×4 5×2
 6×2 6×3 2×8 3×7 4×8 2×5 6×6

3. Faça como no exemplo:

2 x 2 dois vezes dois são quatro.

a) 2×3 _____
 b) 2×4 _____
 c) 2×5 _____
 d) 2×6 _____
 e) 2×7 _____
 f) 2×8 _____



SEQUÊNCIA NUMÉRICA

Neste momento iremos realizar algumas sequências de atividades numéricas!

1- - Continue as seguintes seqüências.

30	31	32									
0	10	20									
51	52	53									

2- Decomponha: Siga o modelo:

96 = 9 dezenas e 6 unidades

89 = _____

74 = _____

56 = _____

68 = _____

37 = _____

Faça com
capricho e
atenção. Adoro
você! Beijos.



3. Escreva por extenso os números abaixo:

a) **53** _____

b) **67** _____

c) **79** _____

d) **85** _____

e) **38** _____

4 . Complete com o:

* **sucessor** de: a) 29 _____ b) 79 _____ c) 39 _____

* **antecessor** de: a) 70 _____ b) 51 _____ c) 69 _____

5. Escreva o numeral correspondente a:

	D	U
A) oitenta e três unidades		
B) 1 dezena + 9 unidades		
C) 8 dezenas + 2 unidades		
D) 6 dezenas + 7 unidades		

6. Escreva os números em ordem crescente:

98 34 69 90 63 37 49 12

_____ / _____ / _____ / _____ / _____ / _____ / _____ / _____



DESCOBRINDO

1. Complete as tabelas:

DOBRO	
76	
25	
52	
45	
83	
14	

TRIPLO	
76	
25	
52	
45	
83	
14	

METADE	
76	
22	
52	
38	
94	
14	

2. Cebolinha e Cascão estão jogando futebol com os amigos. Sabendo que Cebolinha fez 5 gols, responda as questões:

Se Cascão fez triplo de gols que Cebolinha.
Quantos gols Cascão fez?



Se o time de Cascão tem 20 gols, e o de Cebolinha a metade. Quantos gols tem o time de Cebolinha?



Psicomotricidade: Pontilhado

Caprichem no pontilhado:

1. Contorno os pontinhos e depois pinte bem colorido o palhaço.





Labirinto:

Mônica precisa regar a sua planta e ela precisa usar somente uma mangueira, qual mangueira ela irá usar?

